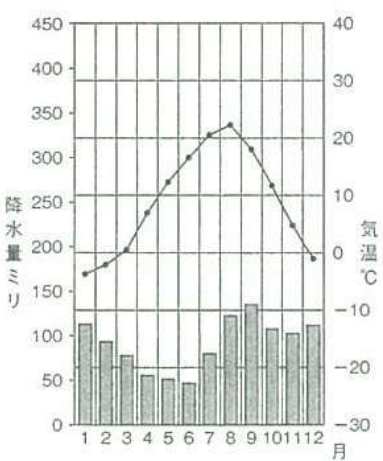
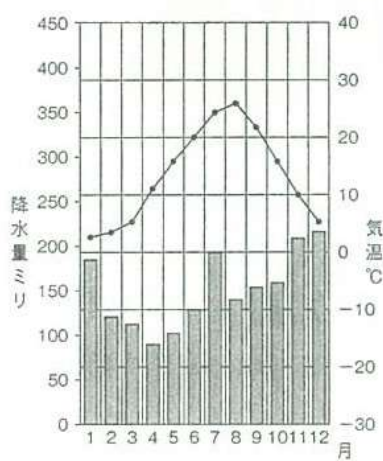


(1) 下線部①について、次の4つの雨温図は、東京・札幌・新潟・高松のいずれかのものです。
 このうち、東京にあたるものを1つ選び、記号で答えなさい。

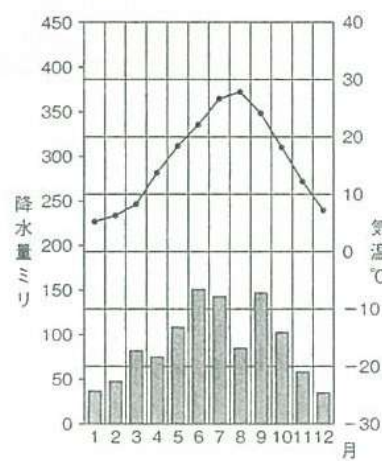
(ア)



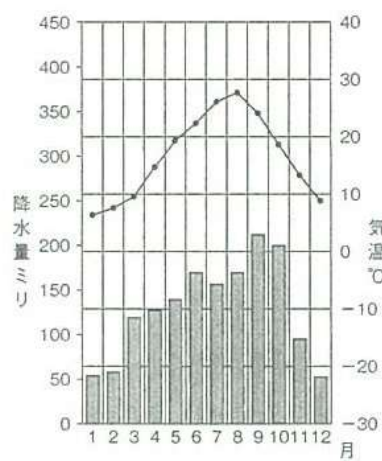
(イ)



(ウ)



(エ)



(「総務省統計局ホームページ」より作成)